

# Контрольная работа по истории Древнего Мира 5 класс

## Вариант 1

### Часть 1. Тест.

- Объединение нескольких родовых общин, живущих в одной местности, - это
  - Государство
  - Племя
  - Большая семья
- Во внутреннее помещение храма, где стояла статуя бога, могли войти
  - Жрецы
  - Фараон и вельможа
  - Только фараон
- Широкое распространение железа в ремесленном производстве стало фактом
  - 4 тысячи лет назад
  - Около 10 века до н.э.
  - Около 6 века до н.э.

- Установите соответствие между именами, названиями и их значениями. Запишите в таблицу выбранные цифры под соответствующими буквами.

ИМЯ, НАЗВАНИЕ	ЗНАЧЕНИЕ
А) Иштар	1) богиня плодородия и любви в Древнем Двуречье
Б) Вавилон	2) бог солнца, вручивший царю Хаммурапи жезл – знак власти над людьми
В) Шамаш	3) город, победивший в борьбе за господство в Двуречье
	4) город, столица Палестины

Ответ:

А	Б	В

- Установите соответствие между понятиями и их значениями. Запишите в таблицу выбранные цифры под соответствующими буквами.

ИМЯ, НАЗВАНИЕ	ЗНАЧЕНИЕ
А) человеческое стадо	1) древнейшие занятия людей
Б) вождь	2) древнейший коллектив людей
В) собирательство и охота	3) глава племени во времена войны

Ответ:

А	Б	В

- Установите соответствие. Запишите в таблицу выбранные цифры под соответствующими буквами.

ИМЯ, НАЗВАНИЕ	ЗНАЧЕНИЕ
---------------	----------

- |            |                                  |
|------------|----------------------------------|
| А) Вавилон | 1) применение конницы            |
| Б) Финикия | 2) изделия из прозрачного стекла |
| В) Ассирия | 3) клинопись                     |

Ответ:

А	Б	В

7. Расположите в хронологической последовательности следующие события. Запишите буквы, которыми обозначены события, в правильной последовательности в таблицу.

- А. Строительство царской дороги в Персии
- В. Возникновение буквенно-звукового письма (алфавита)
- С. Гибель Ассирийской военной державы
- Д. Законы Хаммурапи

Ответ:

--	--	--	--

8. Во главе объединенного египетского государства стоял

- 1) Чиновник
- 2) Вельможа
- 3) Фараон

9. Налог на содержание войска платили

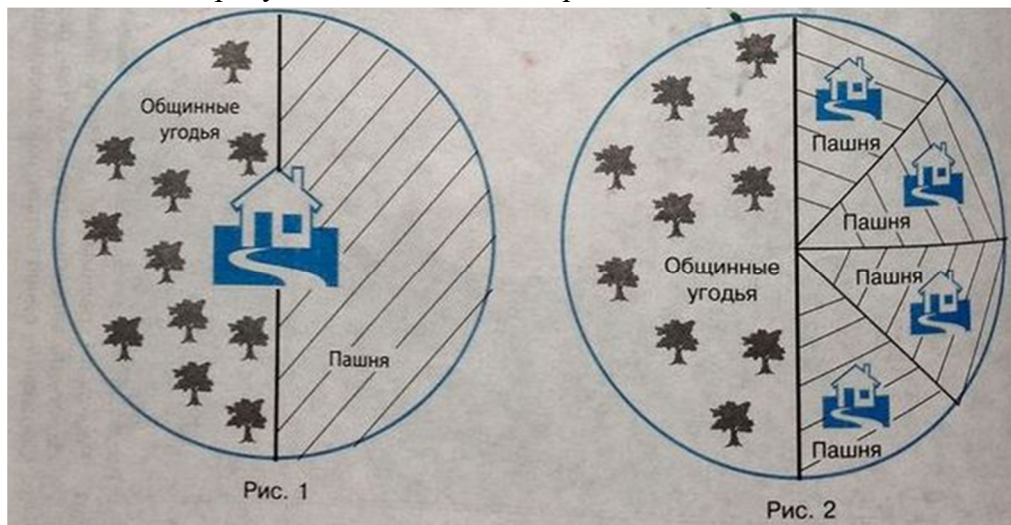
- 1) Вельможи
- 2) Крестьяне
- 3) Жрецы

10. В Междуречье главным источником влаги для полей земледельцев были...

- 1) Обильные дожди
- 2) Разливы рек
- 3) Таяние снегов

## Часть 2. Работа с источниками

1. Напишите под рисунками названия изображенных типов общины





---



---

2. Разгадайте кроссворд «Ассирийская держава»



*По горизонтали:*

1. Одно из занятий ассирийцев.
4. Ее называли «логовищем львов» и «городом крови».
5. Благодаря тому, что она сохранилась, мы знаем об истории Ассирии.
8. Большое могущественное государство.
9. Государство, с которым воевала Ассирия на севере.
11. Один из правителей Ассирии.
12. Это страшное качество характеризовало действия ассирийцев в завоеванных странах

*По вертикали:*

2. Новый металл, освоенный людьми около 1000 лет до н. э.
3. Река, протекающая в Ассирии.
6. Орудие, которым ассирийские воины ломали крепостные стены.
7. Город, завоеванный ассирийцами
10. Новый род войск, который появился в Ассирии.

Вариант 2.

Часть 1. Тест.

1. Земледелие появилось
  - 1) Позже обработки металлов
  - 2) Примерно в одно и тоже время со скотоводством
  - 3) Позже возникновения родовых общин
2. Пешее войско фараона
  - 1) Было постоянным, в него забирали каждого десятого юношу
  - 2) Создавалось во время войны
  - 3) Было единственным родом войск в Египте
3. Первые государства в Древнем Двуречье возникли
  - 1) 3 тысячи лет назад
  - 2) 5 тысяч лет назад
  - 3) 4 тысячи лет назад
4. Установите соответствие между названиями и их значениями. Запишите в таблицу выбранные цифры под соответствующими буквами.

ИМЯ, НАЗВАНИЕ	ЗНАЧЕНИЕ
А) Ур и Урук	1) богиня плодородия и любви и бог солнца в Древнем Двуречье
Б) Тигр и Евфрат	2) бог солнца и бог луны в Древнем Двуречье
В) Шамаш и Сина	3) реки, давшие название Двуречью
	4) города в Древнем Двуречье

Ответ:

А	Б	В

5. Установите соответствие между понятиями и их значениями. Запишите в таблицу выбранные цифры под соответствующими буквами.

ИМЯ, НАЗВАНИЕ	ЗНАЧЕНИЕ
А) неравенство	1) отделение ремесла от земледелия
Б) идол	2) деление на бедных и богатых
В) разделение труда	3) изображение богов и духов

Ответ:

А	Б	В

6. Установите соответствие между странами и их столицами. Запишите в таблицу выбранные цифры под соответствующими буквами.

ИМЯ, НАЗВАНИЕ	ЗНАЧЕНИЕ
А) Ниневия	1) Финикия
Б) Сарды	2) Лидийское царство
В) Тир	3) Ассирия

Ответ:

А	Б	В

7. Расположите в хронологической последовательности следующие события. Запишите буквы, которыми обозначены события, в правильной последовательности в таблицу.

- А. Возникновение Персидской державы, «царства стран»
- В. Законы Хаммурапи
- С. Образование первых финикийских колоний
- Д. Образование городов Ур и Урук

Ответ:

--	--	--	--

8. Первой столицей объединенного египетского государства стал город

- 1) Фивы
- 2) Каир
- 3) Мемфис

9. Судьями и начальниками могли быть

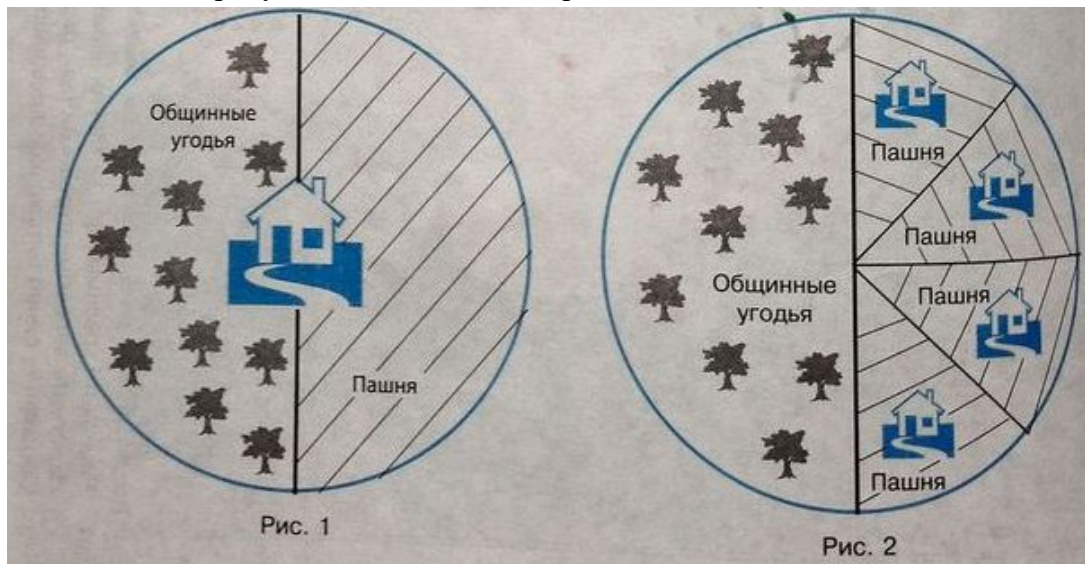
- 1) Вельможи
- 2) Ремесленники
- 3) Богатые торговцы

10. Здания в Междуречье строили в основном из...

- 1) Камня
- 2) Дерева
- 3) Глины

## Часть 2. Работа с источниками


1. Напишите под рисунками названия изображенных типов общины



_____	_____
_____	_____
_____	_____

2. Разгадайте кроссворд «Государство на берегах Нила»

8	
	6



*По горизонтали:*

1. Море, которое омывает Египет с Севера.
4. Место, где рука делится на несколько «рукавов».
5. В Египте нет леса, зато много зарослей этого речного тростника.
7. Он носил двойную красно-белую корону.
10. Каменистые преграды на речном пути.
11. Историк Геродот называл Египет «даром» этой реки.
12. Столица Древнего Египта.

*По вертикали:*

2. Основное занятие древних египтян.
3. Египет находится в северо-восточной части этого материка.
6. Оно возникло в Египте в конце IV тысячелетия до нашей эры.
8. Море, омывающее Египет с Востока.
9. Островок зелени в египетской пустыне.

Критерии оценивания работы

«5» - 21-25 б

«4» - 17-20 б

«3» - 12-16б

«2» - 0-11б