

Примерные контрольные работы.
5 класс

Контрольная работа за первое полугодие.

1. Укажите замкнутую линию:



2. Найдите число, в котором 4 тысячи, 3 десятка и 5 единиц:

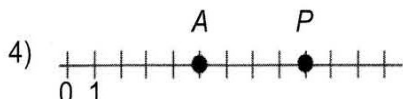
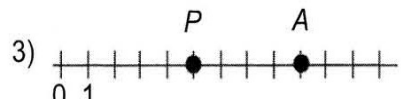
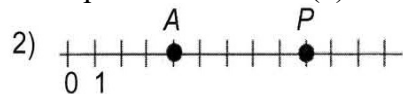
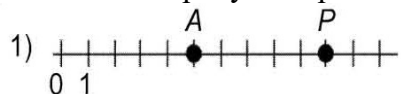
а) 4305

б) 3450

в) 4035

г) 4350

3. На каком рисунке правильно изображены точки Р (9) и А (5)?



4. На сколько число 4265 меньше числа 15 104?

а) на 11 161

б) на 10 839

в) на 10 849

г) на 10 939

5. Выберите верное равенство:

а) $8235 : 27 = 35$;

б) $8235 : 27 = 305$;

в) $8235 : 27 = 3005$;

г) другой ответ.

6. Укажите верное равенство.

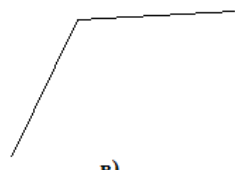

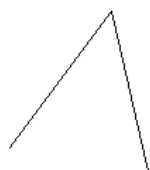
а) $2^4 = 8$;

б) $2^4 = 6$;

в) $2^4 = 32$;

г) $2^4 = 16$.

7. Из данных углов выберите острый угол



а)

б)

в)

8. Выберите число, которое делится на 2

- а) 7385 б) 2430 в) 2881 г) 9163

9. Найдите периметр треугольника, две стороны которого равны по 15см, а третья 10см.

10. Альбом для рисования дороже карандаша в 10 раз, а вместе они стоят 275 руб. Сколько стоит карандаш?

11. В многоэтажном доме с одним подъездом на каждом этаже по 5 квартир. На каком этаже находится квартира № 48?

12. Найдите значение выражения $78 \cdot 29 + 6573 : 313 - 408$.

13. Билет на электричку стоит 180 руб. для взрослого и 100 руб. для школьника. На группу из 10 школьников можно приобрести групповой билет за 800 руб. Какую минимальную сумму в рублях должна заплатить при организации загородной поездки группа, состоящая из учителя, двух родителей и 15 школьников?

Критерии оценивания полугодовой контрольной работы

Какие умения проверяются:

- ✓ выполнять действия с многозначными числами;
- ✓ определять координаты точек;
- ✓ сравнивать числа;
- ✓ определять виды углов
- ✓ решать задачи на части и уравнение;
- ✓ определять порядок действий и вычислять значения выражений;
- ✓ определять делители числа.

Сколько заданий необходимо выполнить на отметки «3», «4», «5»

отметка	«3»	«4»	«5»
кол-во заданий	9 заданий	10-11 заданий	12-13 заданий

Если задание содержит пункты а), б) и т.д., то каждый пункт считается как отдельное задание.

